

EDUQUER LE CŒUR ET L'INTELLIGENCE

G
S
B

S
A
I
N
T
E

F
A
M
I
L
L
E
D
E

QUESTIONNAIRE

HEBDOMADAIRE

DES LEÇONS DU CP

NAZARETH

Septembre :

Première semaine :

Lecture :

Faire la carte mentale de la voyelle (ou)

Production :

-tracer une portée d'écriture

Conjugaison :

-cite les pronoms personnels.

Vocabulaire :

-faire le tout à la partie de la maison

Grammaire :

Cite un nom propre de personne, un nom commun d'animal et un nom commun de chose

Langue nationale :

Quels sont les membres qui composent une famille élargie

Nombres et calculs :

Complete les phrases suivantes avec les expressions : plus de .. que de , moins de... que de, autant de ...que



Il y aronds que de rectangles



Il y ad'étoiles que de flèches

Mesures et grandeurs :

Cite les objets avec lesquels on peut mesurer la longueur d'un objet ?

Géométrie et espace :

Qu'est-ce qu'un carré ?

Qu'est-ce qu'un rectangle ?

Problème :

Le panier d'alima a la forme d'un carré. Dans ce panier, il y a 22 oranges, 18 mangues et et 13 ananas.

- 1- Quelle est la forme du panier d'alima ?
- 2- Quel est le nombre total de fruits dans le panier ?

Sciences et technologie :

- 1- quels sont les parties du corps humain ?
- 2- cite quelques corps liquides
- 3- quelle est l'importance d'une plante dans une maison ?
- 4- que faut-il faire pour économiser l'énergie électrique ?

TIC :

Quelles sont les parties d'un téléphone ?

Sciences sociales :

- 1- Quelles sont les informations à fournir lors d'une présentation ?
- 2- Quels sont les droits de l'enfant ?
- 3- Quelles sont les mesures de sécurité à prendre à la maison ?
- 4- Quelle est la devise du Cameroun ?
- 5- Quelles sont les règles à respecter avant d'entrer dans une maison ?

EPS :

- 1- Quel nom donne-t-on à l'objet qui donne le signal de départ dans une course ?

DEVELOPPEMENT PERSONNEL :

- Quel matériel peux-tu utiliser pour dessiner une maison ?

CATECHESE :

Qui est Dieu ?

SEMAINE 2

Production d'écrits :

Remplis un formulaire en donnant le nom, le prénom l'âge, la classe, l'école, le quartier, le nom du père et de la mère et leur profession

LECTURE, VOC, ORTH

Faire la carte mentale des syllabes inversées (at., ot, ut, It) et écrire les mots les contenant

GRAMMAIRE :

Cite un nom commun d'animal

CONJUGAISON :

Conjugué le verbe avoir au présent de l'indicatif

CULTURE NATIONALE :

Quelles sont les formules de politesse qu'on peut utiliser à la maison ?

NOMBRES ET CALCULS :

- 1- Ecris en chiffres ou en lettres les nombres de 20 à 30
- 2- Range les nombres suivants par ordre croissant et décroissant :
(20-18-28-10-02-12-21)

MESURES ET GRANDEURS :

Trace une droite avec une règle graduée

GEOMETRIE ET ESPACE :

Construis un triangle

PROBLEME :

Dans un sac il y a 29 billes 14 billes se cassent. Combien reste – t – il ?

SCIENCES ET TECHNOLOGIE :

- 1- Comment protéger le corps en fonction du temps qu'il fait
- 2- Quelle est l'attitude à adopter envers les objets tranchants à la maison ?

TIC :

Comment mettre une radio ou une télévision en marche ?

SCIENCES SOCIALES :

- 1- Quelles sont les expressions qu'on utilise pour saluer ?
- 2- Définis les notions : étrangers, citoyen, réfugié

EPS :

Quel est le comportement à adopter lors d'une course

DEVELOPPEMENT PERSONNEL :

Que peut – on utiliser pour décorer une maison ?

CATECHESE :

Quelles sont les différentes parties de la bible ?

SEMAINE 3 :

PRODUCTION D'ECRITS :

Le maître a écrit un texte au tableau écris le sans fautes

LECTURE, VOC, ORTH :

Faire la carte mentale du son (s) et écrire les mots les contenant

GRAMMAIRE :

Remplace les noms ou groupe de mots soulignés par leur pronom personnel

Les élèves sautent -----

Tom et moi jouons-----

CONJUGAISON :

Conjuge le verbe être au présent de l'indicatif

LANGUE NATIONAL :

Nomme les objets qu'on peut trouver dans une maison

NOMBRES ET CALCULS :

Complete les égalités suivantes

$23 + \text{----} = 30$; $\text{----} + 15 = 26$; $19 - \text{-----} = 8$

MESURES ET GRANDEURS :

Trouve le double des nombres suivants :

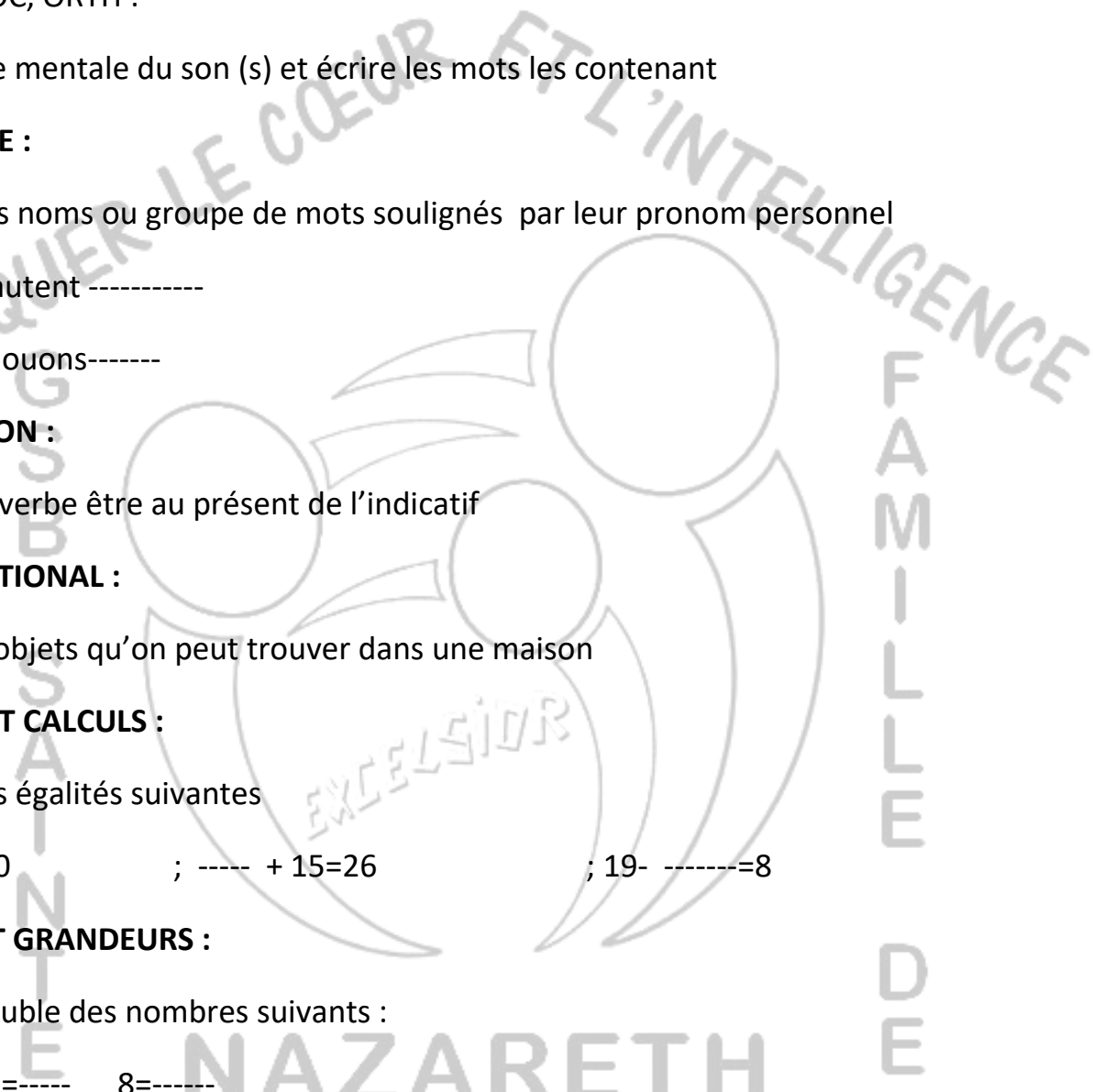
$12 = \text{----}$ $15 = \text{-----}$ $8 = \text{-----}$

Trouve la moitié des nombres suivants

$16 = \text{-----}$ $26 = \text{-----}$ $20 = \text{-----}$

GEOMETRIE ET ESPACE :

Trace un cercle



PROBLEME :

Dans un car de 30 places, il y a 18 passagers et le chauffeur combien de personnes y a-t-il dans le car ?

SCIENCES ET TECHNOLOGIE :

Quelle est la différence entre les animaux sauvages et les animaux domestiques ?

SCIENCES SOCIALES :

Quel est le rôle d'un chef de famille ?

EPS :

Comment faire pour gagner une course de 100m ?

DEVELOPPEMENT PERSONNEL :

Fabriquer une marionnette avec une tête, un tronc, et des membres

CATECHISE :

Qu'est-ce que la foi ?

MOIS D'OCTOBRE

SEMAINE 1

Production d'écrits :

Mets le texte suivant en ordre :

- 1- Je fais ma toilette
- 2- Chaque matin, je me réveille à 6h
- 3- Je prends mon petit déjeuner

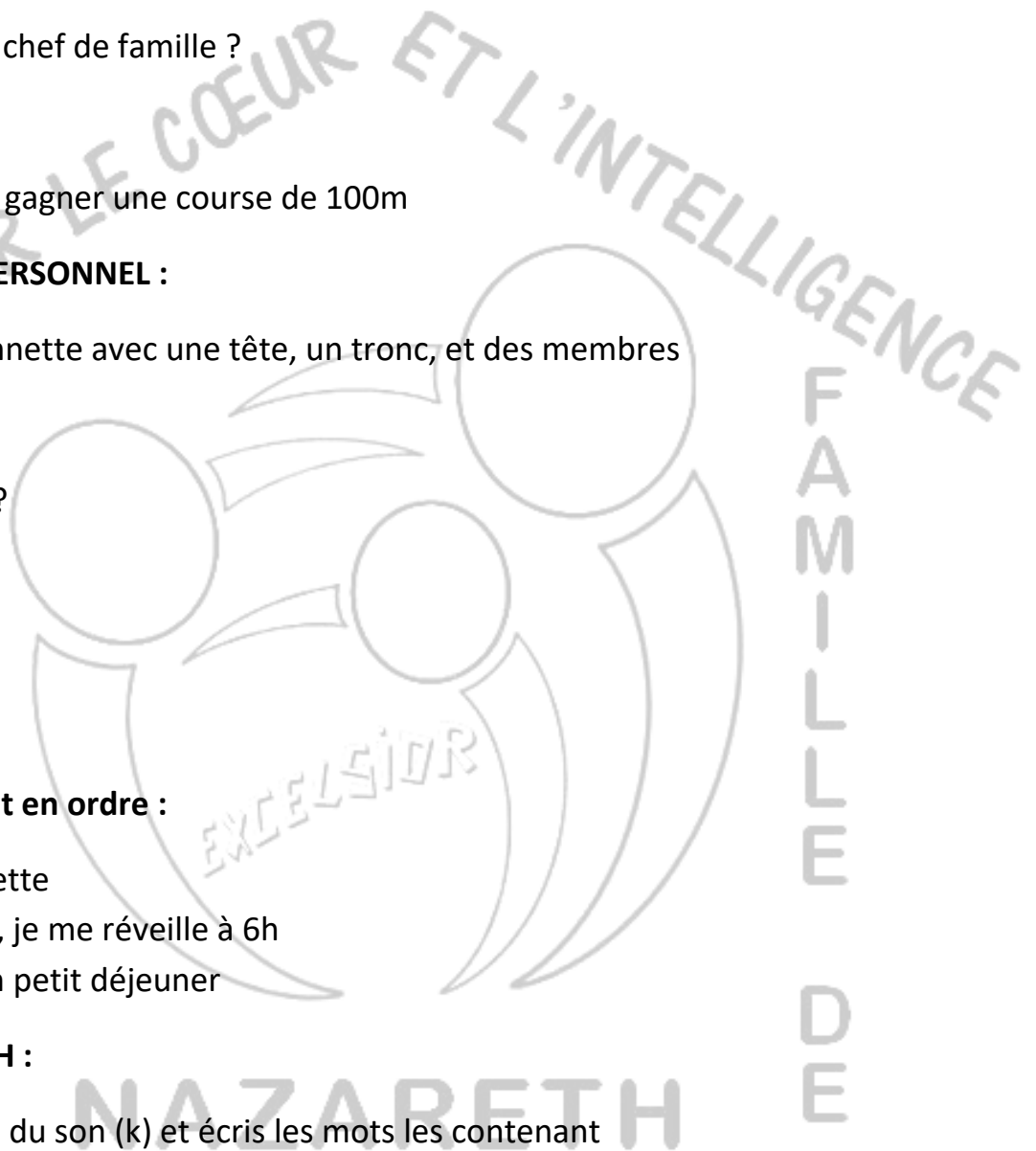
LECTURE, VOC, ORTH :

Fais la carte mentale du son (k) et écris les mots les contenant

GRAMMAIRE :

Souligne les verbes dans les phrases suivantes :

- 1- J'étudie mes leçons
- 2- Les élèves chantent en classe



CONJUGAISON :

Classe les verbes suivants dans chaque groupe correspondant

Manger, sortir, pleurer, vomir, aller, vendre, finir, faire

1 ^{er} groupe	2 ^e groupe	3 ^e groupe

LANGUE NATIONALE :

Fais le comparer / contraster de la ville et le village

NOMBRE ET CALCULS :

Ecris en chiffres et en lettres les nombres de 31 à 40

MESURES ET GRANDEURS :

Quelle est l'unité principale de mesures de masse ?

Géométrie et espace :

Trace avec une règle graduée un carré de 3 m de coté

PROBLEME :

Abena va au marché avec 150f elle achète un bic à 80f . combien lui reste – t – il ?

SCIENCES ET TECHNOLOGIE :

- 1- Cite les organes et leur sens ?
- 2- Comment maintenir les organes de sens propre ?
- 3- Quelle est l'utilité de l'eau ?
- 4- Cite deux objets qui flottent et deux qui ne flottent pas dans l'eau .
- 5- Cite deux produits issus des plantes.
- 6- Comment garde – t- on son environnement propre ?

TIC :

Cite trois outils traditionnels utilisés dans ta localité.

SCIENCES SOCIALES :

- 1- Qu'est-ce qu'un handicapé ?
- 2- Cite deux droits de l'enfant.
- 3- Qu'est-ce qu'un lieu public ?

EPS :

Cite deux techniques de saut

DEVELOPPEMENT PERSONNEL :

Comment procède – t – on pour planter un légume ou une fleur ?

CATECHESE :

Qui est ABRAHAM ?

Semaine2

LECTURE, VOC, ORTH :

Fais la carte mentale du son (an) et écris les mots les contenant

GRAMMAIRE :

Cite les articles définis et indéfinis

CONJUGAISON :

Classe les verbes suivants dans leur groupe respectif

Mentir, franchir, sortir, finir, sentir, vomir, dormir,

2 ^e groupe	3 ^e groupe

LANGUE NATIONALE :

- 1- Quel est ton village d'origine.
- 2 -Comment appelle –t – on le mot village dans ta langue ?
- 2- Quelles sont les causes de la pollution au village et en ville ?

NOMBRES ET CALCULS :

Cite trois nombres consécutifs supérieur à 18

MESURES ET GRANDEURS :

Combien peut peser une bouteille de 28 g remplie à moitié ?

PROBLEME :

Un bidon rempli à moitié pèse 25g. Quelle est sa masse lorsqu'il est rempli ?

SCIENCES ET TECHNOLOGIE :

Dessine le schéma qui montre toutes les étapes de la croissance d'une plante .

Dessine le schéma du cycle de l'eau

Comment maintenir l'habitat des animaux propres ?

TIC :

Faire le comparer / contraster des outils d'information et des outils de communication

SCIENCES SOCIALES :

Quelles sont les différentes fêtes légales ?

EPS :

En quoi consiste le saut en longueur ?

DEVELOPPEMENT PERSONNEL :

Quels matériaux peux-tu utiliser pour fabriquer une petite maison traditionnelle

CATECHESE :

Pourquoi dit-on que moïse est le meilleur ami de dieu ?

SEMAINE 3

LECTURE, VOC, ORTH :

Faire la carte mentale des consonnes (b,d) et écris les mots les contenant

GRAMMAIRE :

Cite les déterminants possessifs masculins

CONJUGAISON :

Conjugué le verbe (manger) au présent de l'indicatif

LANGUE NATIONALE :

Décris ton village

Explique ton nom

Quel est le rôle du chef du village ?

NOMBRES ET CALCULS :

Décompose le nombre suivant

$$40 = \dots + \dots + \dots$$

$$35 = \dots + \dots + \dots$$

PROBLEME :

Maya a acheté 3 bonbons à 25f l'un. Combien a-t-il dépensé ?

SCIENCES ET TECHNOLOGIE :

Que faire pour prendre soin de ses mains et de ses cheveux

Que faire pour éviter la pollution de l'eau ?²

TIC :

Cite les outils modernes de communication

EPS :

Comment effectuer un bond sur une courte distance ?

CATECHESE :

Qu'est-ce que le buisson ardent ?

NOVEMBRE :

SEMAINE 1 :

LECTURE, VOC, ORTH :

Faire la carte mentale du son (z) et écrire les mots les contenant

GRAMMAIRE :

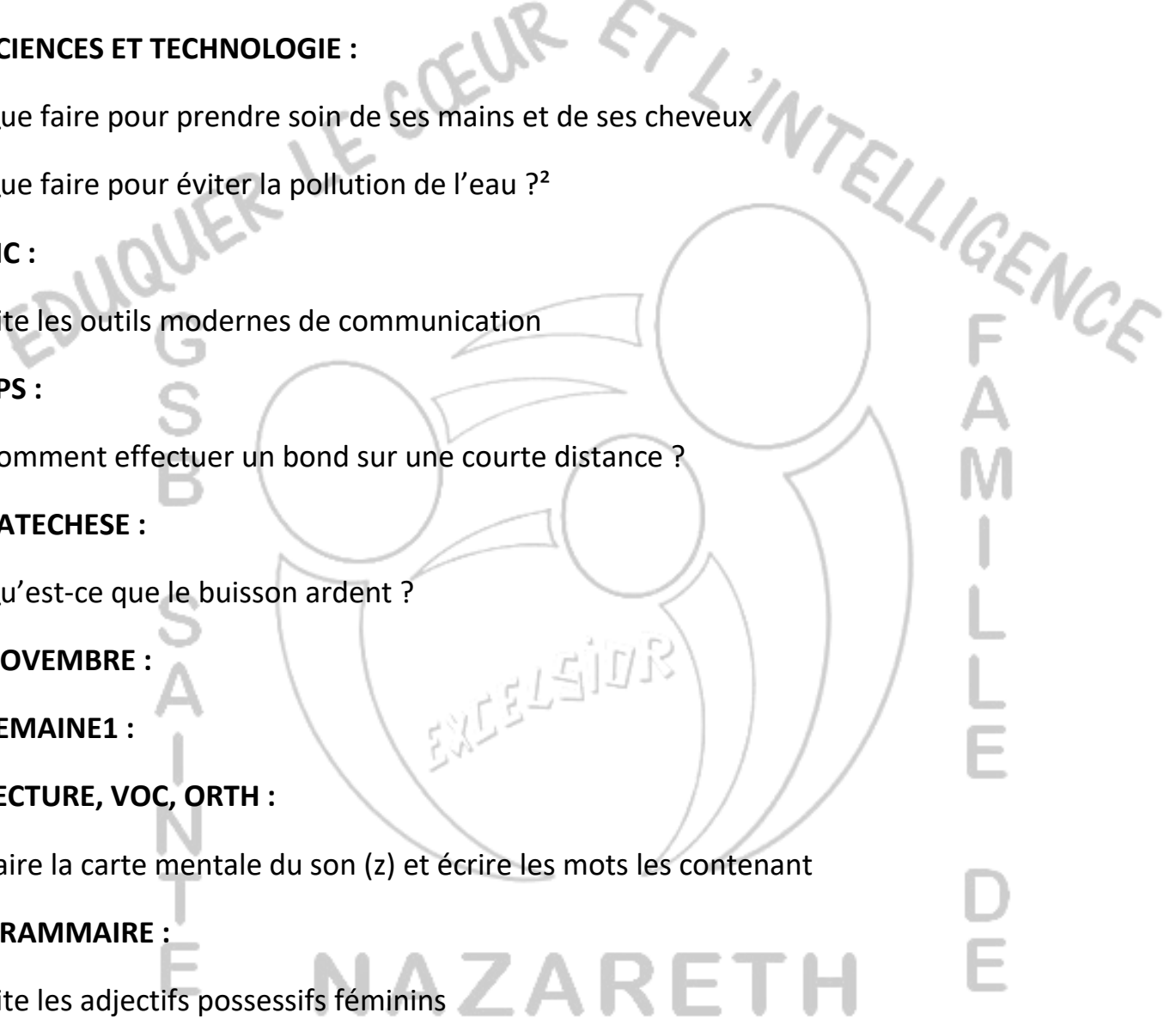
Cite les adjectifs possessifs féminins

CONJUGAISON :

Conjugué le verbe (jeter) au présent de l'indicatif

LANGUE NATIONALE :

Faire la carte mentale de l'école



NOMBRES ET CALCULS :

Fais le diagramme de venn en utilisant les ensembles suivants :

A { a-b-k-p-s-h-o-t }

B { n-m-k-c-a-y-s-z }

MESURES ET GRANDEURS :

Complete avec le signe < >

5g.....04g ; 10g20g

GEOMETRIE:

Quand dit-on que deux points sont alignés?

PROBLEME :

Françoise a 140 billes et partage équitablement à ses deux frères

SCIENCES ET TECHNOLOGIE :

Quelle sont les bonnes positions à adopter lorsqu'on est assis ou debout

Que faire pour soulever et porter une charge ?

TIC :

Faire le comparer / contraster du clavier de l'ordinateur et du téléphone

SCIENCES SOCIALES :

Quels sont les avantages de l'obéissance ?

Quels sont les avantages de la ponctualité ?

EDUCATION ARTISTIQUE :

Trace les lignes courbes, droites et brisées

EPS :

Cite deux mouvements en gymnastique

CATECHESE :

Qu'est-ce que la manne ?

F
A
M
I
L
L
E

D
E

S
A
N
T
E

EXCELLENCE

NAZARETH

SEMAINE 2 :

LECTURE, VOC, ORTH :

Faire la carte mentale de la voyelle complexe (on) et écrire les mots les contenant

GRAMMAIRE :

Cite les adjectifs possessifs pluriels

CONJUGAISON :

Conjugué le verbe (tracer) au présent de l'indicatif

LANGUE NATIONALE :

Une semaine de classe a combien de jours ?

Une année scolaire a combien de mois ?

NOMBRES ET CALCULS :

Ecrits en chiffres ou en lettres les nombres de 41 à 50

MESURES ET GRANDEURS :

Réponds par vrai ou faux

Une bouteille de tangui a une contenance supérieure à une bouteille d'huile d'arachide-----

GEOMETRIE ET ESPACE :

Quand dit-on que deux points sont alignés ?

PROBLEME :

Franck a 5 tas de 3 tomates chacun. Combien de tomates a-t-il en tout ?

SCIENCES ET TECHNOLOGIE :

Cite deux objets qui fonctionnent avec le vent.

TIC :

Cite les différents composants d'un ordinateur

SCIENCES SOCIALES :

Qu'est-ce que la paix ?

EDUCATION ARTISTIQUE :

Quelles sont les différentes notes ?

EPS :

Cite deux mouvements en gymnastique

CATECHESE :

Que te rappelle la traverser de la mer rouge ?

SEMAINE 3

PRODUCTION D'ECRITS :

Raconte ton premier jour de classe

LECTURE, VOC, ORTH :

Faire la carte mentale des voyelle complexes (eu, eur, oeur) et écrire les mots les contenant

GRAMMAIRE :

Complete les vides par l'adjectif possessif qui convient :

----- sœur , ----- frères, ----- oncle , -----chaussure

CONJUGAISON :

Mets les verbes entre parenthèses au présent de l'indicatif

Tom et son (nager) ----- dans la piscine

Ma mère et moi (manger) ----- du poulet

LANGUE NATIONALE :

Cite 4 activités de l'élève à l'école.

NOMBRES ET CALCULS :

Ecrire en chiffres et en lettres les nombres de 51 à 60

MESURES ET GRANDEURS :

Complete la phrase suivante :

Un bidon plein de 4l rempli à moitié contient ----- l

GEOMETRIE ET ESPACE :

Place deux point A et B sur le plan puis trace une droite passant par A et B .

Que constates- tu ?

PROBLEME :

Dans une classe, il y a 60 élèves 18 sont des garçons.

Combien de filles y a – t – il dans cette classe ?

SCIENCES ET TECHNOLOGIE :

A quoi servent les plantes à l'école ?

TIC :

Quel est le rôle du clavier et de l'écran ?

SCIENCES SOCIALES :

Cite trois règles du règlement intérieur de ton école.

CATECHESE :

Comment DIEU a – t – il manifester son amour envers son peuple ?

DECEMBRE

SEMAINE 1 :

LECTURE, VOC, ORTH :

Faire la carte mentale du son (j) et écrire les mots contenant le son.

GRAMMAIRE :

Complete avec l'adjectif possessif qui convient :

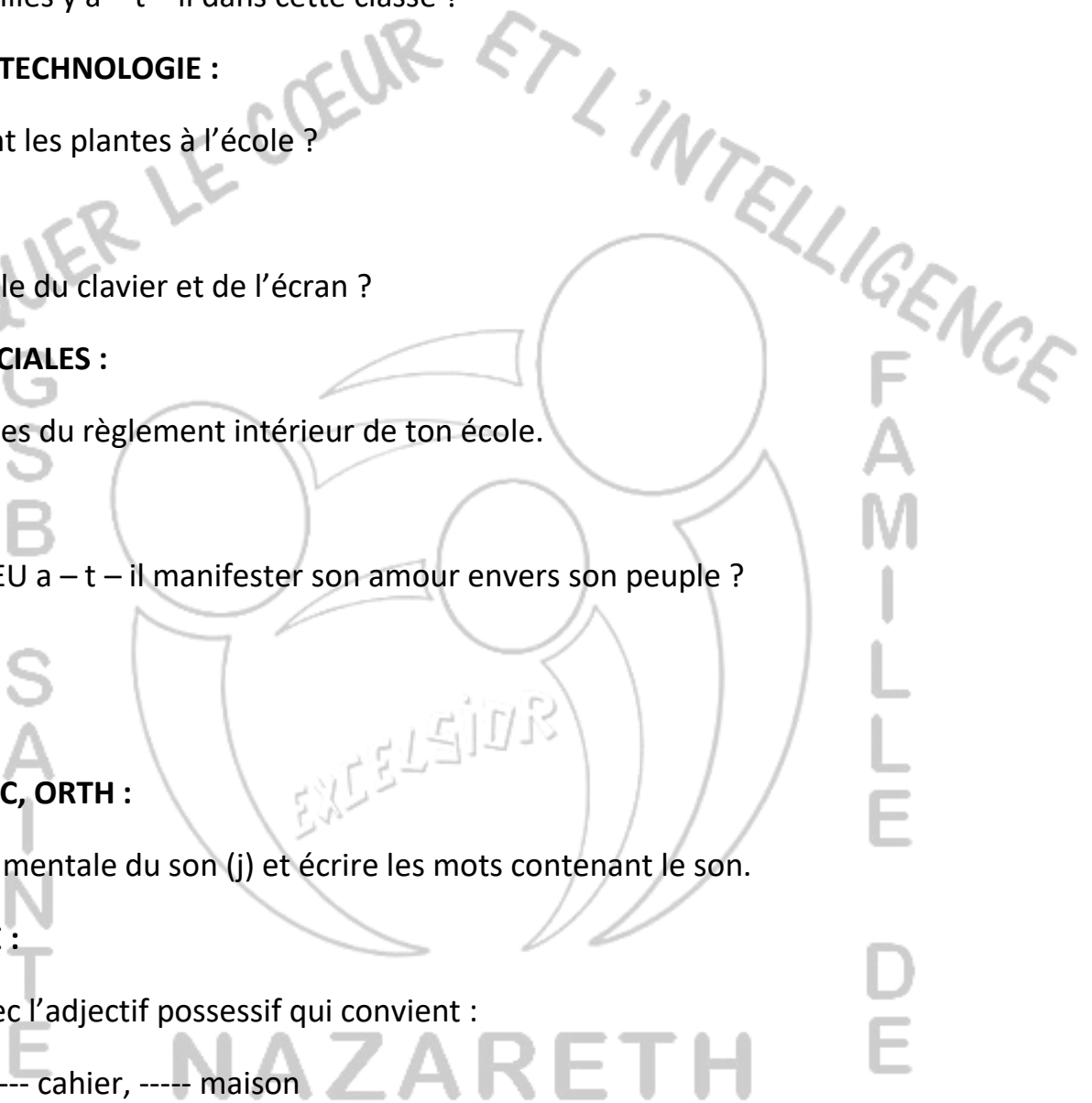
----- sœurs, ----- cahier, ----- maison

LANGUE NATIONALE :

Nomme 4 types de métiers de ton choix

NOMBRES ET CALCULS :

Ecrire en chiffres et en lettres les nombres de 61 à 70



MESURES ET GRANDEURS :

Complete les égalités

$$5f + 10f + 25f + 50f =$$

$$35f + 15f + 5f + 10f =$$

GEOMETRIE:

Trace un rectangle de 4cm de long et 2m de large à l'aide d'une règle

PROBLEME :

Emile a 2d de mangues et 3d d'oranges.

Combien d'oranges a-t-il en tout ?

SCIENCES ET TECHNOLOGIE :

Comment prendre soin des animaux domestiques ?

TIC :

A quoi peut servir l'ordinateur dans un métier ?

SCIENCES SOCIALES :

Cite trois droits de l'enfant

EDUCATION ARTISTIQUE

Quelles sont les différents temps des mesures des chants ?

EPS :

Définis deux règles d'un sport de ton choix

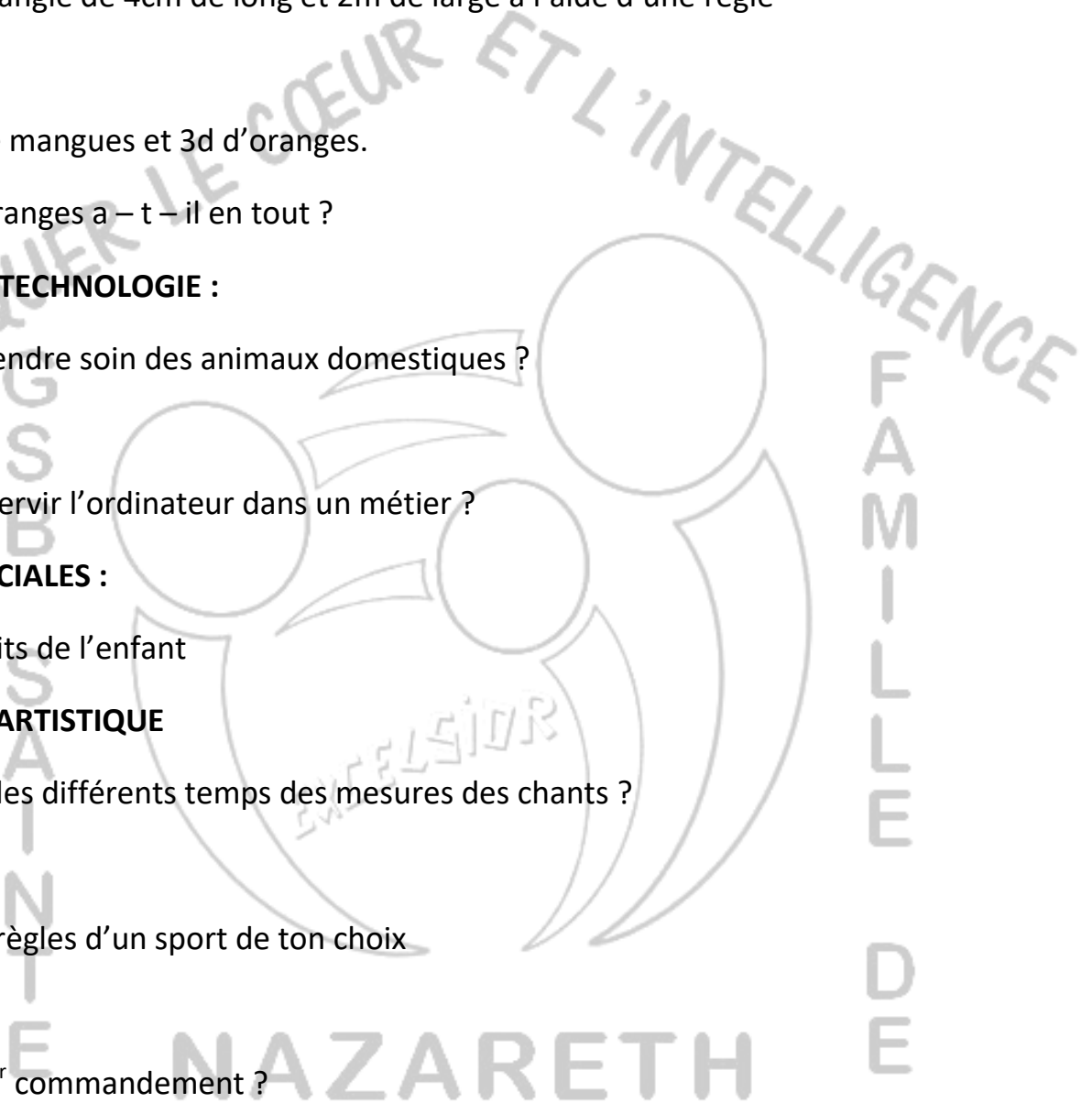
CATECHESE :

Quel est le 1^{er} commandement ?

SEMAINE 2 (janvier)

LECTURE, VOC, ORTH :

Faire la carte mentale du son (ch.) et écrire les mots le contenant



GRAMMAIRE :

Mets les mots suivants dans la colonne correspondante

Chaise, lit, arbre, table, sac, ordinateur, baffle

masculin	feminin

LANGUE NATIONALE :

Nomme trois professions de ton choix

NOMBRES ET CALCULS :

Complete les vides

10 ---- 30 ----- 50 ---- 70 ---- 90

GEOMETRIE :

Construis un triangle de 3cm de coté

PROBLEME :

Samira va au marché avec 200f elle achète un crayon à 50f 2 bonbons à 25f l'un

Que peux – tu calculer ?

SCIENCES ET TECHNOLOGIE :

Quel est le rôle des aliments dans l'organisme ?

TIC :

A quoi sert le téléphone dans un métier ?

SCIENCES SOCIALES :

Cite les personnalités importantes de ta localité et donne leur rôle

CATECHESE :

Quel est le 2^e commandement ?

SEMAINE 3 (janvier)**PRODUCTION D'ECRITS :**

Décris le métier que tu aimerais exercer à l'avenir ?

LECTURE, VOC, ORTH :

Faire la carte mentale du son (o) et écrire les mots les contenant

GRAMMAIRE :

Complete les mots suivants dans le tableau suivant

Frères – chaussure – orange – journaliste – cahiers – mangue

LANGUE NATIONALE :

Nomme deux produits fabriqués par les artisans

NOMBRES ET CALCULS :

Pose et effectue

$$32+19= \quad / \quad 20+ 17= / \quad 22 + 19=$$

PROBLEME :

Abena dispose de 2 dizaines d'œufs et 9 unités de ces œufs se cassent combien d'œufs reste-t-il ?

SCIENCES ET TECHNOLOGIE :

Cite les outils du cultivateur et de l'éleveur.

SCIENCES SOCIALES :

Quelles sont les fonctions d'une personnalité religieuse et d'une personnalité traditionnelle ?

DEVELOPPEMENT PERSONNEL :

Quel comportement dois-tu afficher envers les outils du de l'agriculteur et de l'éleveur.

CATECHESE :

Quel est le 3^e commandement ?

FEVRIER :

Semaine 1

LECTURE, VOC, ORTH :

Faire la carte mentale du son (é) et écrire les mots les contenant.

GRAMMAIRE :

Complete le tableau avec les mots suivants

Ordinateur –souris – chaises – téléphone - pantalons

Masculin/singulier	Masculin/ pluriel	Féminin /singulier	Féminin/pluriel

LANGUE NATIONALE :

Que faut – il faire avant de voyager ?

NOMBRES ET CALCULS :

Ecris en chiffres et en lettres les nombres de 61 à 70

MESURE ET GRANDEURS :

Complete les égalités

1semaine =----- jours

1 mois =----- semaines

1trimestre =----- mois

GEOMETRIE :

Cite un objet qui peut se déplacer en montant, en tournant.

PROBLEME

Salomé travaille trois fois par semaine combien de jours travaillera – t – elle en deux semaines ?

SCIENCES ET TECHNOLOGIE :

Quel est le mode de déplacement des animaux suivants :

Baleine-----

Tortue-----

Lapin-----

Epervier-----

TIC :

A quoi peut servir le téléphone et l'ordinateur dans les voyages ?

SCIENCES SOCIALES :

Qu'est – ce que la générosité ?

EPS :

Combien de joueurs compte une équipe de football ?

DEVELOPPEMENT PERSONNEL :

Quels sont les matériaux avec lesquels on peut fabriquer une voiture ?

CATECHESE :

Quel est le 4^e commandement ?

SEMAINE 2 :

PRODUCTION D'ECRITS :

Raconte ton 1^{er} voyage en voiture.

LECTURE, VOC, ORTH :

Faire la carte mentale du son (ai) et écrire les mots les contenant.

CONJUGAISON :

Mets les verbes entre parenthèses au présent de l'indicatif

Les élèves (jouer) -----

Fanny et sa sœur (nager) -----

LANGUE NATIONALE :

Cite quatre moyens de locomotion de ton choix.

PROBLEME :

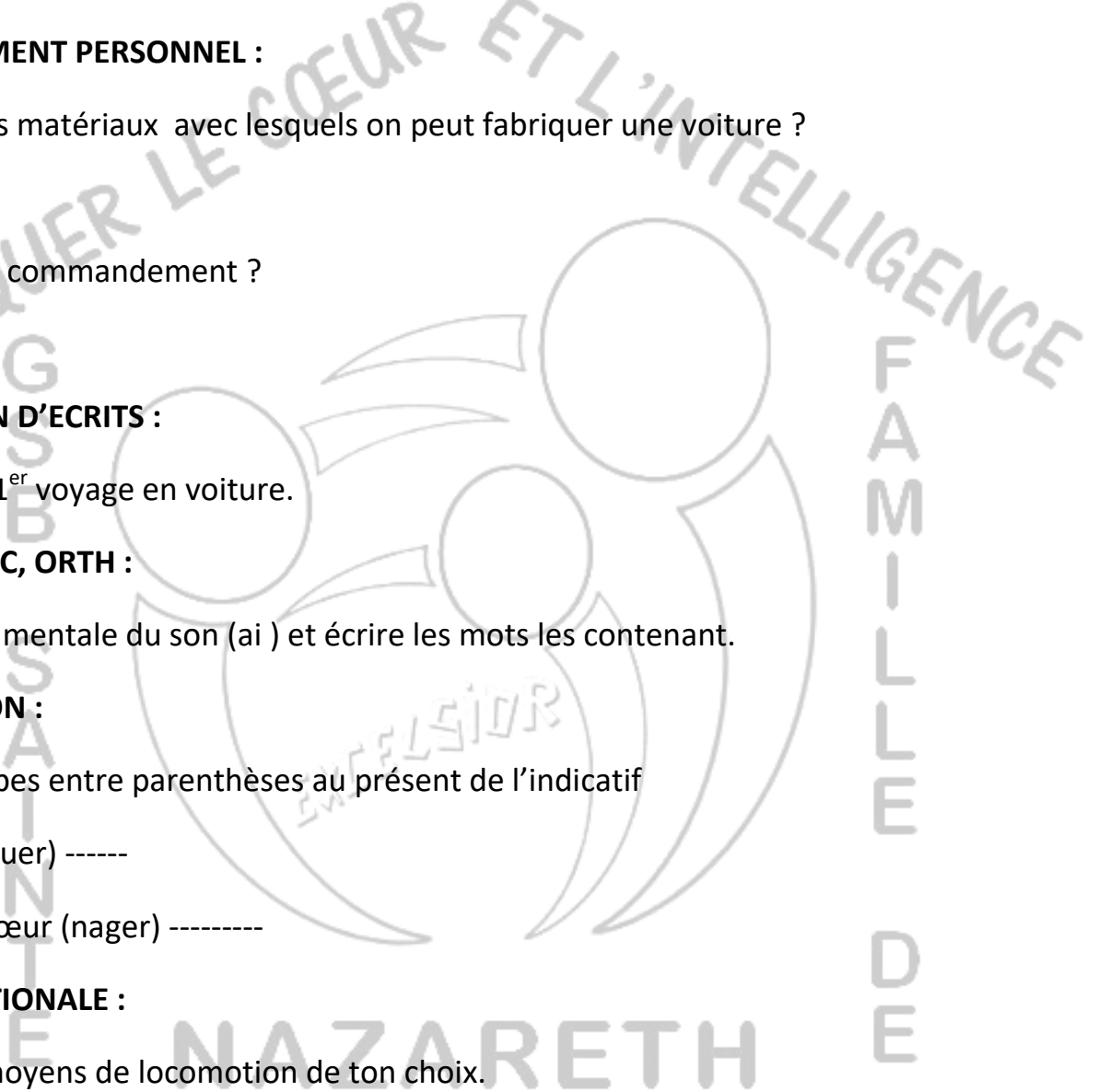
Un car quitte Douala le mardi et fais trois jours en route .

Quel jour arrive – t – il à destination ?

SCIENCES ET TECHNOLOGIE :

Avec quoi fonctionnent les moyens de locomotion suivants :

Vélo, voiture, avion, camion



SCIENCES SOCIALES :

Quelles sont les mesures de sécurités à prendre lors d'un voyage ?

EPS :

Quelle est la durée d'un match de football ?

CATECHESE :

Quel est le 5^e commandement ?

SEMAINE 3 :

LECTURE, VOC, ORTH :

Faire la carte mentale des syllabes inversées (ec , el , elle , enne , es , ette) et écris les mots les contenant.

LANGUE NATIONALE :

Quelles sont les différentes émotions qu'on peut avoir lors d'un voyage ?

NOMBRES ET CALCULS :

Effectue les opérations suivantes

$$23 \times 3 = \quad / \quad 42 \times 2 = \quad / \quad 16 \times 4 =$$

MESURES ET GRANDEURS :

1 semestre = ----- mois

1 année = ----- mois

GEOMETRIE :

Cite un objet qui peut tourner à gauche et à droite.

PROBLEME :

En 2017 tu étais au CP en quelle année seras – tu au cm1 ?

SCIENCES ET TECHNOLOGIE :

Cite deux catastrophes naturelles de ton choix

SCIENCES SOCIALES :

Que faire pour traverser la route ?

EPS :

Quelle est la durée d'un match de football ?

DEVELOPPEMENT PERSONNEL :

Comment élève – t-on un poussin ?

CATECHESE :

Quel est le 6^e commandement ?

MARS :

SEMAINE 1 :

LECTURE, VOC, ORTH :

Faire la carte mentale des consonnes complexes (cr dr fr gr pr tr vr) et écrire les mots les contenant .

CONJUGAISON :

Conjuge le verbe faire au présent de l'indicatif.

LANGUE NATIONALE :

Cite trois maladies courantes de ta localité

NOMBRES ET CACULS :

Ecris en chiffres et en lettres les nombres de 71 à 80

PROBLEME :

Dans une classe de 80 élèves, 22 échouent .combien d'élèves ont – ils réussi ?

SCIENCES ET TECHNOLOGIE :

Quelles sont les conséquences de l'absence du repos et du sommeil ?

TIC :

Quelle est la posture à adopter devant un téléviseur ou un ordinateur ?

SCIENCES SOCIALES :

Quel droit respect – on lorsqu'on vous donne à manger tous les jours ?

EPS :

Avec quelle partie du corps joue- t – on au handball ?

CATECHESE :

Quel est le 7^e commandement ?

SEMAINE 2 :

LECTURE, VOC, ORTH :

Faire la carte mentale des consonnes complexes (bl ,cl , fl , pl) et écrire les mots les contenant

CONJUGAISON :

Mets le verbe entre parenthèses au présent

Les élèves (faire) ----- les devoirs.

Steve et toi (faire) ----- le désordre en classe.

LANGUE NATIONALE :

Quelle sont les causes des maladies courantes dans ta localité

NOMBRES ET CALCULS :

Trouve la moitié des nombres suivants :

40---- ; 28----- ; 44----- ; 24 -----

MESURES ET GRANDEURS :

Complete les égalités :

1mois = ----- semaines

3mois = ----- semaines

PROBLEME :

Stéphanie a 10ans, son frère a le double de son âge et sa sœur la moitié

Quel est l'âge de son frère et de sa sœur ?

SCIENCES ET TECHNOLOGIE :

Cite trois outils du médecin de ton choix

TIC :

Quelles sont les mesures d'hygiène à prendre lors de l'utilisation des outils tic .

EPS :

Une équipe de handball compte combien de joueurs ?

CATECHESE :

Quelle est le 8^e commandement ?

SEMAINE 3

LECTURE, VOC, ORTH :

Faire la carte mentale du son (gn) et écrire les mots les contenant

NOMBRES ET CALCULS :

Récite la table de 3, 4, 5

PROBLEME :

Mado a 2 paquets de 10 bonbons chacun. Combien de bonbons a-t-elle en tout ?

SCIENCES ET TECHNOLOGIE :

Que faut-il faire face à un médicament ?

TIC :

Quelle est la mesure d'hygiène à prendre face à un ordinateur ?

EPS :

Au handball, il existe plusieurs règles. Cite deux

CATECHESE :

Quel est le 9^e commandement ?

AVRIL :

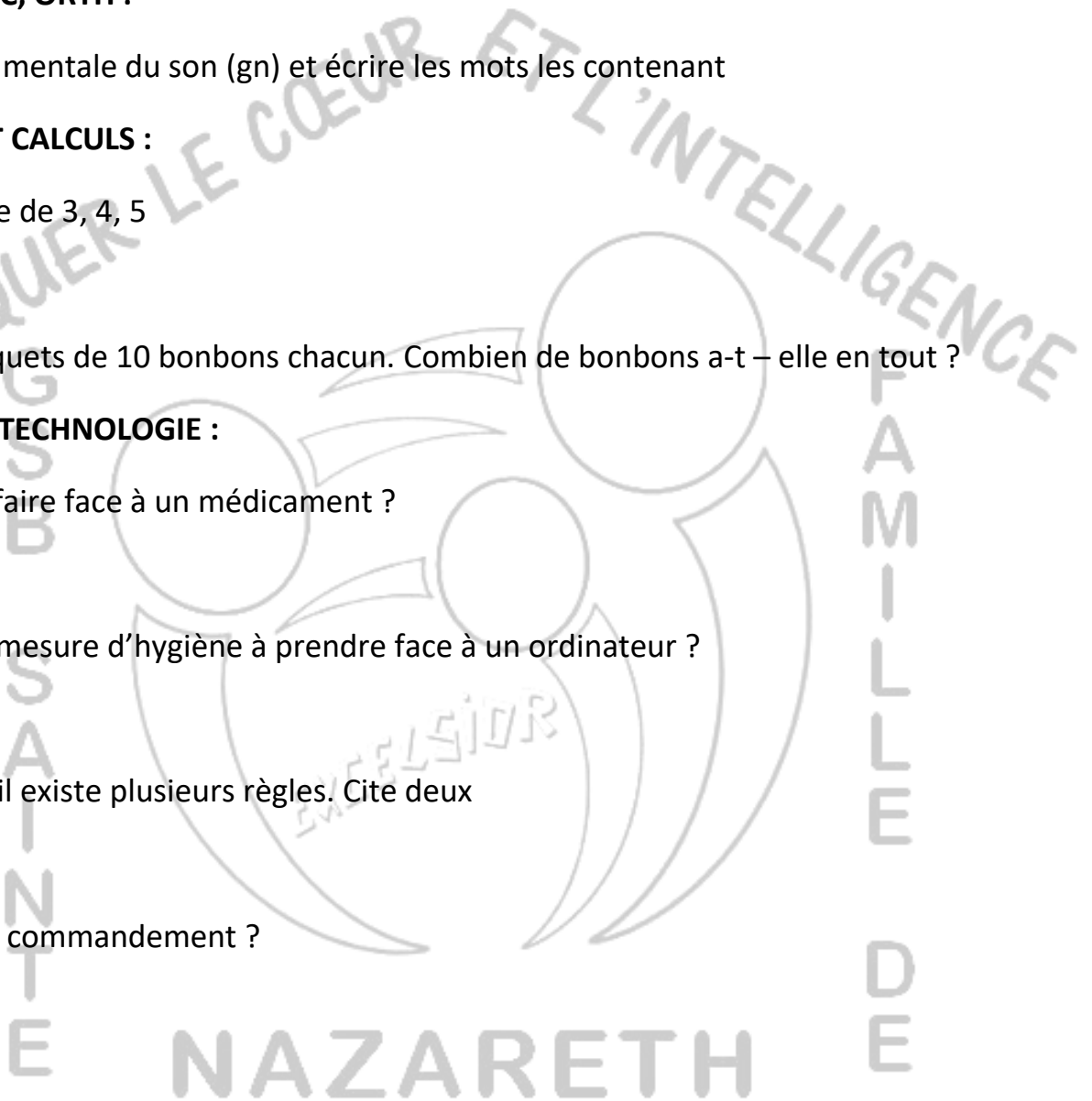
SEMAINE 1 :

LECTURE, VOC, ORTH :

Faire la carte mentale du son (in) et écrire les mots contenant

NOMBRES ET CALCULS :

Ecrire en chiffres et en lettres les nombres de 81 à 90



PROBLEME :

Dans le sac de sabine, il y a une pièce de 50f, deux pièces de 30f. Combien a – t – elle en tout ?

SCIENCES ET TECHNOLOGIES :

Qu'est ce qui fait bouger les parties du corps ?

TIC :

Quelle est l'unité de mesure d'un écran ?

EPS :

Au basketball, une équipe a combien de joueur ?

CATECHESE :

Quel est le 10^e commandement ?

SEMAINE 2 :

LECTURE, VOC, ORTH :

Faire la carte mentale du son (s) et écrire les mots les contenant

CONJUGAISON :

Conjugué le verbe (aller) au présent de l'indicatif

NOMBRES ET CALCULS :

Récite la table de 5, 6

TIC :

Cite trois jeux ludoéducatif

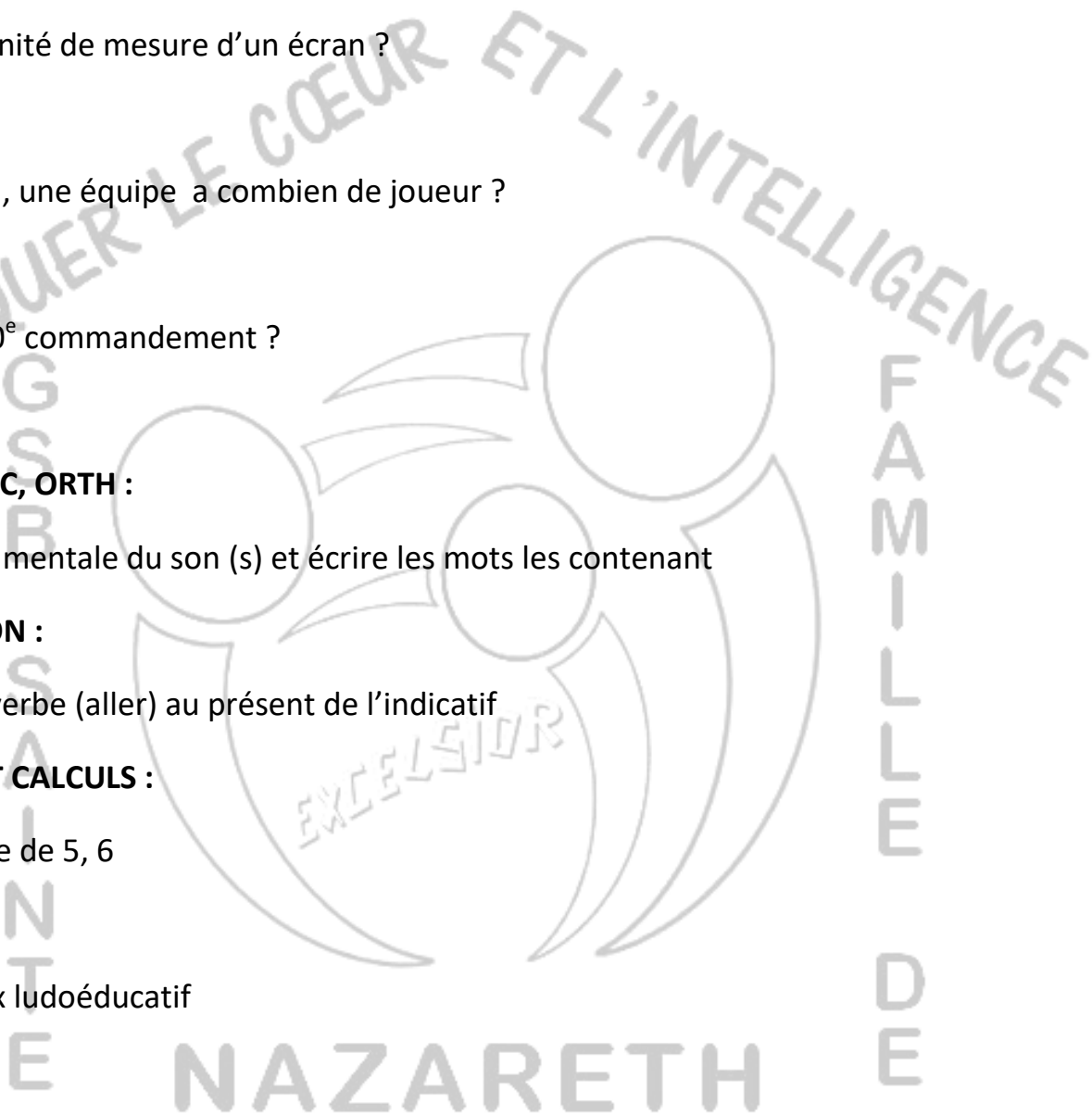
EPS :

Avec quelle partie du corps joue – t – on au basketball ?

Semaine 3

LECTURE, VOC, ORTH :

Faire la carte mentale des syllabes complexes (ail , eil , euil ,ille , ouille)



CONJUGAISON :

Mets les verbes entre parenthèses au présent de l'indicatif

Je (aller) ----- au marché

Les élèves (aller) ----- au stade

NOMBRES ET CALCULS :

Pose et effectue.

$23 - 15 =$ / $60 - 39 =$ / $89 - 40 =$

SCIENCES ET TECHNOLOGIES :

Quels sont les produits toxiques qu'on peut trouver les jouets ?

TIC :

Qu'est-ce qu'un jeu électronique ?

EPS :

Comment appelle-t-on les buts au basket ?

DEVELOPPEMENT PERSONNEL :

Faire le comparer contraster de la danse traditionnelle et de la danse moderne

MAI :

Semaine 1 :

LECTURE, VOC, ORTH :

Faire la carte mentale des syllabes inversées (ar , ir , or , ur , er , our) et les mots les contenant

GRAMMAIRE :

Cite les signes de ponctuation que tu connais.

CONJUGAISON :

Conjugué le verbe être au futur simple de l'indicatif.

LANGUE NATIONALE :

Quels sont les outils traditionnels de communication ?

NOMBRES ET CALCULS :

Ecris en chiffres et en lettres les nombres de 91 à 100

GEOMETRIE :

Quels sont les différents solides que tu connais ?

SCIENCES ET TECHNOLOGIES :

Quelles sont les règles d'hygiène relatives au à la vision ?

Sciences sociales :

Qu'est – ce que la tolérance ?

TIC :

Quelle est la conduite à tenir lors d'une situation téléphonique ?

SEMAINE 2 :

LECTURE, VOC, ORTH :

Faire la carte mentale des syllabes inversées (al , il , el , ol , ul , ac ,ec ,ic ,oc , es es , is , os)
et écrire les mots les contenant

GRAMMAIRE :

Ponctue le texte suivant :

Chaque matin ---- je me lève de bonne heure ----

Quelle est belle cette maison -----

CONJUGAISON :

Conjugué le verbe avoir au futur simple de l'indicatif.

LANGUE NATIONALE :

Nomme deux outils traditionnels de communication de ta localité

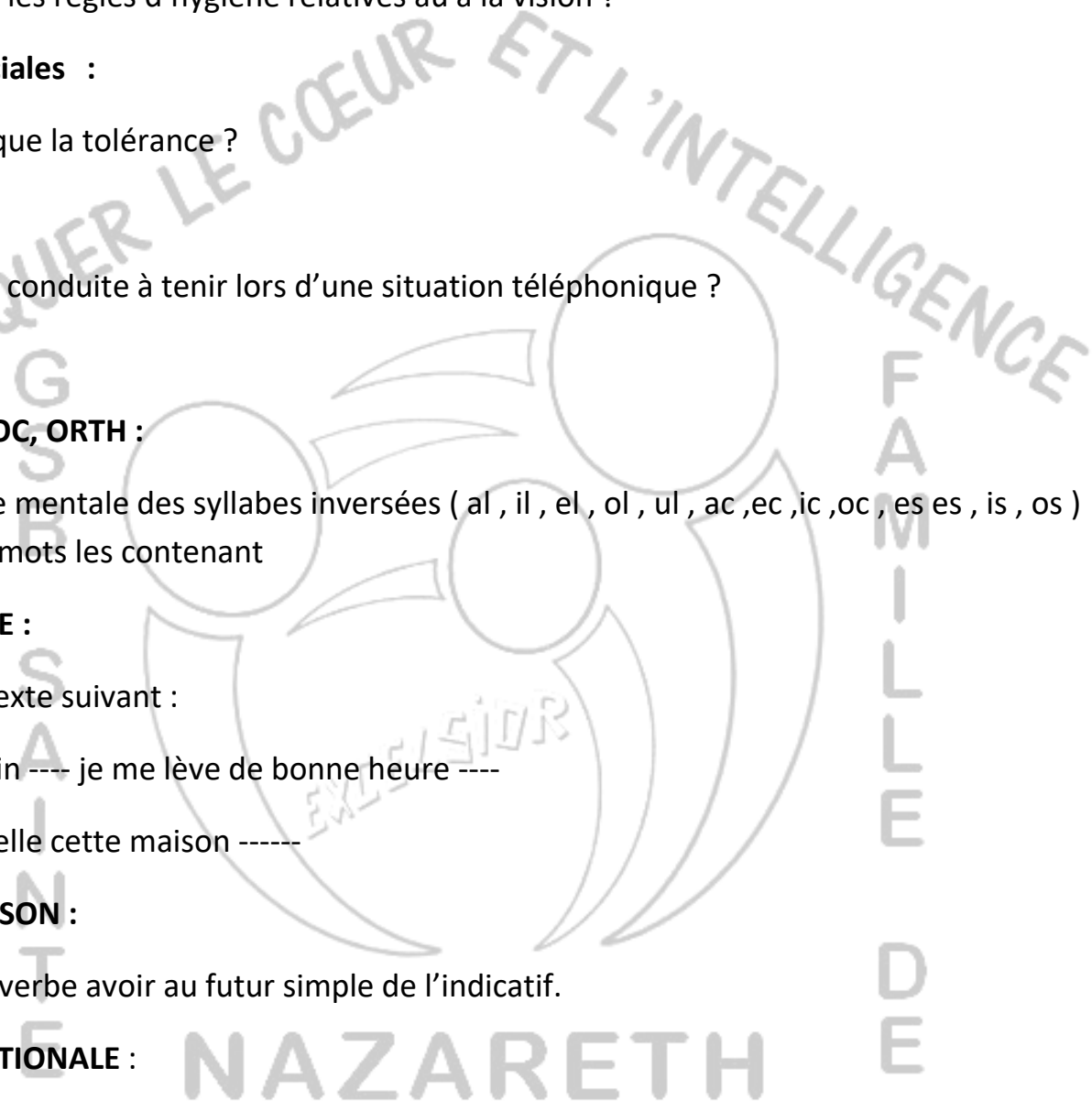
NOMBRES ET CALCULS :

Ecris en chiffres et en lettres les fractions suivantes :

$\frac{1}{2}$ = -----

Un quart =-----

$\frac{1}{3}$ = -----



PROBLEME :

Abdou a un gâteau qui représente les $\frac{7}{7}$. Il mange les $\frac{4}{7}$. quelle est la fraction du gâteau restante

SCIENCES ET TECHNOLOGIE :

Cite deux gaz dangereux

SCIENCES SOCIALE :

Cite trois devoirs de l'enfant

TIC :

Cite les périphériques de l'ordinateur

EPS :

Cite deux sports de combat

SEMAINE 3 :

LECTURE, VOC, ORTH :

Faire la carte mentale du son (f) et écrire les mots les contenant

CONJUGAISON :

Conjugué les verbes entre parenthèses au futur simple de l'indicatif

Ali (être) ----- à l'école plus tard

Les élèves (avoir) ----- un test demain

NOMBRES ET CALCULS :

Réduis les opérations suivantes :

$$12 + 5 - 10 \times 3 =$$

$$34 - 14 \div 2 + 12 =$$

PROBLEME :

Tom a 30 billes. La moitié se perd et partage équitablement le reste à ses deux frères.



SCIENCES SOCIALES :

Réponds par vrai ou faux

L'enfant a le devoir de nourrir ses parents ----

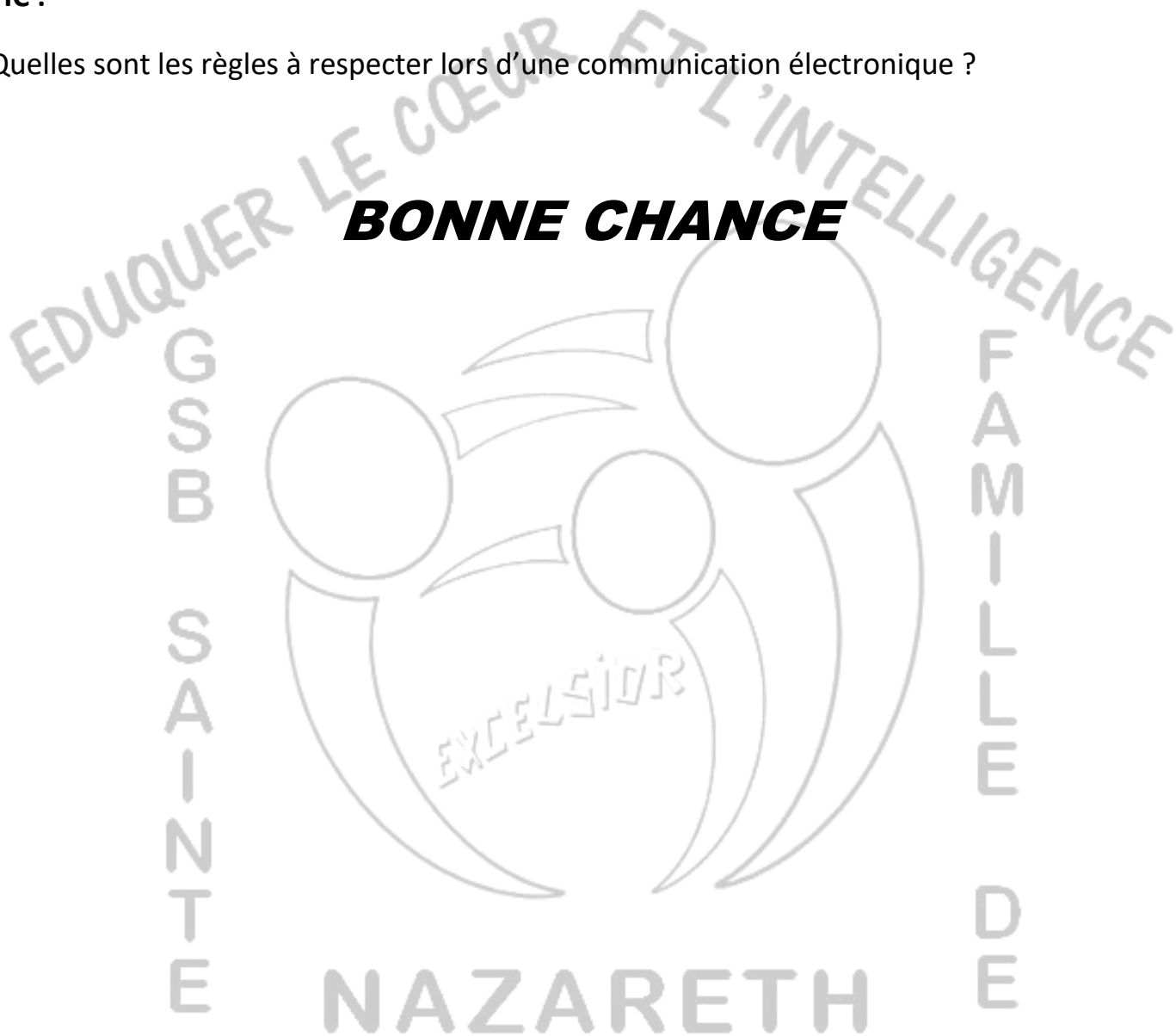
L'enfant a le devoir d'aider ses parents aux travaux ménagers-----

L'enfant a le devoir d'éduquer ses parents-----

TIC :

Quelles sont les règles à respecter lors d'une communication électronique ?

BONNE CHANCE



EDUQUER LE CŒUR ET L'INTELLIGENCE

S
S
B
S
A
-
N
-
T
E



F
A
M
-
I
L
L
E

D
E

NAZARETH